

## Exercices corrigés

Merci de me signaler toute coquille présente dans ce document : [selim.cornet@dauphine.fr](mailto:selim.cornet@dauphine.fr)

## Exercices du polycopié

## Exercice 8.6

Soient  $b > a > 0$  et  $f : [a, b] \rightarrow \mathbb{R}$  une fonction de classe  $\mathcal{C}^1$  et convexe sur  $[a, b]$ .

1. Rappelez la définition de  $f$  est convexe sur  $[a, b]$ .

2. En déduire que

$$\forall (Q, Q_0) \in [a, b]^2, \frac{f(Q)}{Q} - \frac{f(Q_0)}{Q_0} \geq \left(1 - \frac{Q_0}{Q}\right) \left(f'(Q_0) - \frac{f(Q_0)}{Q_0}\right) \quad (8.2)$$

3. Considérons un bien  $A$  dont le coût total de fabrication est lié à la quantité produite  $Q \in [a, b]$  par la relation  $C = f(Q)$ .

(a) Rappelez la définition du coût moyen et du coût marginal.

(b) On suppose qu'il existe une quantité  $Q^*$  pour laquelle le coût moyen et le coût marginal s'égalisent. Déduire de (8.2) que le coût moyen atteint son minimum en  $Q^*$ .

## Corrigé

1.  $f$  est convexe si sa courbe représentative est au-dessus de toutes ses tangentes sur  $[a, b]$ , c'est-à-dire si

$$\forall Q_0 \in [a, b], \forall Q \in [a, b], f(Q) \geq f(Q_0) + f'(Q_0)(Q - Q_0)$$

2. Soient  $Q_0, Q \in [a, b]$ . Comme  $Q > 0$  et  $Q_0 > 0$ , on déduit de la relation précédente :

$$\begin{aligned} \frac{f(Q)}{Q} &\geq \frac{f(Q_0)}{Q} + \left(1 - \frac{Q_0}{Q}\right) f'(Q_0) \\ \Leftrightarrow \frac{f(Q)}{Q} - \frac{f(Q_0)}{Q_0} &\geq \frac{f(Q_0)}{Q} - \frac{f(Q_0)}{Q_0} + \left(1 - \frac{Q_0}{Q}\right) f'(Q_0) \\ \Leftrightarrow \frac{f(Q)}{Q} - \frac{f(Q_0)}{Q_0} &\geq \left(1 - \frac{Q_0}{Q}\right) \left(f'(Q_0) - \frac{f(Q_0)}{Q_0}\right) \end{aligned}$$

La relation (8.2) est démontrée pour tout  $(Q_0, Q) \in [a, b]^2$ .

3. (a) Le coût moyen est donné par  $f_M(Q) = \frac{f(Q)}{Q}$ , et le coût marginal par  $f_m(Q) = f'(Q)$ .

(b) En  $Q^*$ , on a donc  $\frac{f(Q^*)}{Q^*} = f'(Q^*)$ . En remplaçant  $Q_0$  par  $Q^*$  dans la relation (8.2), on a alors

$$\forall Q \in [a, b], \frac{f(Q)}{Q} - \frac{f(Q^*)}{Q^*} \geq \left(1 - \frac{Q^*}{Q}\right) \left(f'(Q^*) - \frac{f(Q^*)}{Q^*}\right) = 0$$

c'est-à-dire  $f_M(Q) - f_M(Q^*) \geq 0$  pour tout  $Q \in [a, b]$ . Par définition du minimum global, la fonction  $f_M$  possède donc un minimum global sur  $[a, b]$  en  $Q^*$ .

**Exercice 13.5**

Soit la fonction  $f$  définie par

$$f(x, y) = x^\alpha y^\beta$$

où  $\alpha$  et  $\beta$  sont des réels non nuls. Soit  $\mathcal{C} = \{(x, y) \in \mathbb{R}^2, x > 0, y > 0\}$ . On admet que  $\mathcal{C}$  est ouvert. Étudier la convexité (ou la concavité) de  $f$  sur  $\mathcal{C}$  en discutant selon les valeurs de  $\alpha$  et  $\beta$ .

*Corrigé*

Commençons par remarquer que pour tout  $(x, y) \in \mathcal{C}$ , on a  $\ln(f(x, y)) = \alpha \ln(x) + \beta \ln(y)$ . Ainsi, si  $\alpha < 0, \beta < 0$ ,  $\ln \circ f$  est convexe (par les propriétés d'extension et d'addition), donc  $f$  est convexe.

Calculons les dérivées partielles de  $f$ . On a, pour tout  $(x, y) \in \mathcal{C}$ ,  $\frac{\partial f}{\partial x}(x, y) = \alpha x^{\alpha-1} y^\beta$ ,  $\frac{\partial f}{\partial y}(x, y) = \beta x^\alpha y^{\beta-1}$ ,

puis  $\frac{\partial^2 f}{\partial x^2}(x, y) = \alpha(\alpha-1)x^{\alpha-2}y^\beta$ ,  $\frac{\partial^2 f}{\partial x \partial y}(x, y) = \alpha\beta x^{\alpha-1}y^{\beta-1}$ ,  $\frac{\partial^2 f}{\partial y^2}(x, y) = \beta(\beta-1)x^\alpha y^{\beta-2}$ . Le déterminant de la matrice hessienne en  $(x, y)$  vaut donc  $rt - s^2 = \alpha\beta(\alpha-1)(\beta-1)x^{2\alpha-2}y^{2\beta-2} - (\alpha\beta)^2 x^{2\alpha-2}y^{2\beta-2} = \alpha\beta(1-\alpha-\beta)x^{2\alpha-2}y^{2\beta-2}$ . Celui-ci est du signe de  $\alpha\beta(1-\alpha-\beta)$ . Ainsi :

- Si  $\alpha < 0, \beta > 0$  et  $\alpha + \beta \leq 1$ , on a  $rt - s^2 \geq 0$  et  $r \geq 0$ , donc  $f$  est convexe.
- Si  $\alpha < 0, \beta > 0$  et  $\alpha + \beta > 1$ , on a  $rt - s^2 < 0$  et  $r \geq 0$ , donc  $f$  n'est ni convexe ni concave.
- On peut faire la même analyse dans le cas symétrique  $\alpha > 0, \beta < 0$ .
- Si  $\alpha > 0, \beta > 0$ ,  $rt - s^2$  est du signe de  $1 - \alpha - \beta$ . Ainsi, si celui-ci est positif, on a  $r \leq 0$  : en effet, comme  $0 < \alpha + \beta \leq 1$ , on a  $\alpha - 1 \leq 0$ .  $f$  est donc concave. En revanche, si  $1 - \alpha - \beta < 0$ ,  $f$  n'est ni convexe ni concave.

On résume tous ces résultats dans le tableau ci-dessous.

$\alpha$	$\beta$	$\alpha + \beta$	$f$ est
$< 0$	$< 0$	-	convexe
$< 0$	$> 0$	$\leq 1$	convexe
$< 0$	$> 0$	$> 1$	ni convexe ni concave
$> 0$	$< 0$	$\leq 1$	convexe
$> 0$	$< 0$	$> 1$	ni convexe ni concave
$> 0$	$> 0$	$\leq 1$	concave
$> 0$	$> 0$	$> 1$	ni convexe ni concave

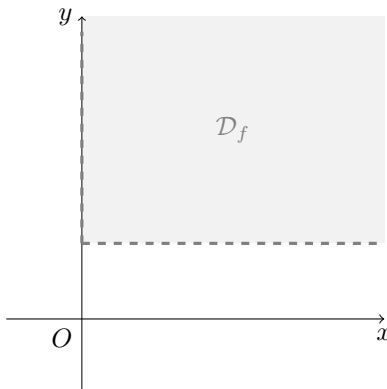
**Exercice 13.8**

Soit la fonction  $f$  définie par  $f(x, y) = (y - 1) \ln(y - 1) - \ln(x) + x^2 - xy + 2y^2 - 7y - \frac{3}{2}x + 3$ .

1. Donner le domaine de définition  $\mathcal{D}_f$  de  $f$  et faire un dessin de cet ensemble.
2. L'ensemble  $\mathcal{D}_f$  est-il convexe ? Est-il ouvert ?
3. Montrer que  $f$  est de classe  $\mathcal{C}^2$  sur  $\mathcal{D}_f$ .
4. Montrer que la fonction  $\varphi : u \mapsto u \ln(u)$  est convexe sur son ensemble de définition.
5. En déduire la convexité de  $f$  sur  $\mathcal{D}_f$ .

Corrigé

1. Les quantités à l'intérieur des logarithmes doivent être strictement positives.  $f$  est donc définie sur  $\mathcal{D}_f = \{(x, y) \in \mathbb{R}^2, x > 0, y > 1\}$ .



2.  $\mathcal{D}_f$  est convexe et ouvert car c'est l'intersection de deux demi-plans ouverts.
3. La fonction  $\varphi$  est définie et de classe  $\mathcal{C}^1$  sur  $]0, +\infty[$ . Pour tout  $u \in ]0, +\infty[$ , on a  $\varphi'(u) = u \times \frac{1}{u} + \ln(u) = 1 + \ln(u)$  qui est une fonction croissante,  $\varphi$  est donc convexe sur  $]0, +\infty[$ .
4. La fonction  $\ln$  étant de classe  $\mathcal{C}^2$  sur  $\mathbb{R}_+$ , la fonction  $(x, y) \mapsto -\ln(x)$  est de classe  $\mathcal{C}^2$  par extension. La fonction  $(x, y) \mapsto \ln(y-1)$  est aussi de classe  $\mathcal{C}^2$  car composée d'une fonction affine par la fonction logarithme qui est de classe  $\mathcal{C}^2$ . Par produit avec une fonction affine, la fonction  $(x, y) \mapsto (y-1)\ln(y-1)$  est de classe  $\mathcal{C}^2$ .  $f$  est par conséquent de classe  $\mathcal{C}^2$ , comme somme de fonctions de classe  $\mathcal{C}^2$  et d'une fonction polynomiale qui est aussi de classe  $\mathcal{C}^2$ .
5. Par composition d'une fonction convexe par une fonction affine,  $(x, y) \mapsto (y-1)\ln(y-1) = \varphi(y-1)$  est convexe sur  $\mathcal{D}_f$ . De plus, par application du critère de convexité des fonctions polynomiales de degré 2, la fonction  $(x, y) \mapsto x^2 - xy + 2y^2 - yy - \frac{3}{2}x + 3$  est convexe sur  $\mathcal{D}_f$  (car  $4ac - b^2 = 4 \times 1 \times 2 - (-1)^2 = 3 > 0$  et  $a = 1 > 0$ ). Enfin, la fonction  $-\ln$  étant convexe, la fonction  $(x, y) \mapsto -\ln(x)$  est convexe d'après la propriété d'extension. La fonction  $f$  est une somme de fonctions convexes, elle est par conséquent convexe sur  $\mathcal{D}_f$ .

**Exercice 14.4**

On considère la fonction  $f$  définie sur  $\mathbb{R}^2$  par

$$f(x, y) = xy e^{-\frac{x^2+y^2}{2}}$$

1. On considère la fonction  $\phi$  définie sur  $\mathbb{R}$  par  $\phi(u) = u e^{-\frac{u^2}{2}}$ . Montrer que  $\phi$  est de classe  $\mathcal{C}^2$  sur  $\mathbb{R}$  et calculer  $\phi'$  et  $\phi''$ .
2. Déterminer les extrema de  $\phi$  sur  $\mathbb{R}$  et donner les plus grands intervalles (au sens de l'inclusion) sur lesquels  $\phi$  est convexe.
3. Pour tout  $(x, y) \in \mathbb{R}^2$ , exprimer  $f(x, y)$  en fonction de  $\phi(x)$  et  $\phi(y)$ . En déduire une expression des dérivées partielles premières de  $f$  en fonction de  $\phi$  et de  $\phi'$ .
4. Déterminer les cinq points critiques de  $f$  sur  $\mathbb{R}^2$ .
5. Toujours à l'aide des fonctions  $\phi, \phi'$  et  $\phi''$ , donner la matrice hessienne de  $f$  en un point quelconque  $(x, y)$  de  $\mathbb{R}^2$ .
6. Donner la nature locale des points critiques.
7. On pose  $\mathcal{D} = \{(x, y) \in \mathbb{R}^2, x > 0 \text{ et } y > 0\}$ . On admet que c'est un ouvert de  $\mathbb{R}^2$ .

- (a) Montrer que  $\mathcal{D}$  est un sous-ensemble convexe de  $\mathbb{R}^2$ .
- (b) Montrer que la fonction  $h = \ln \circ f$  est bien définie sur  $\mathcal{D}$  et étudier la convexité ou la concavité de  $h$  sur  $\mathcal{D}$ .
- (c) En déduire sans calcul les extrema de  $f$  sur  $\mathcal{D}$ .
- (d) Montrer que  $f$  est bornée sur  $\mathcal{D}$ .

Corrigé

1. La fonction  $u \mapsto e^{-\frac{u^2}{2}}$  est de classe  $\mathcal{C}^2$  sur  $\mathbb{R}$  comme composée de la fonction exponentielle par une fonction polynomiale. Par produit avec une fonction polynomiale, la fonction  $\phi$  est donc de classe  $\mathcal{C}^2$  sur  $\mathbb{R}$ . On calcule, pour tout  $u \in \mathbb{R}$ ,

$$\phi'(u) = (1 - u^2)e^{-\frac{u^2}{2}} \quad \text{et} \quad \phi''(u) = (u^3 - 3u)e^{-\frac{u^2}{2}}$$

- 2. • On a  $\phi'(u) = 0 \Leftrightarrow u \in \{-1, 1\}$ . De plus  $\phi''(-1) = 2e^{-1/2} > 0$ ,  $\phi''(1) = -2e^{-1/2} < 0$ . La fonction  $\phi$  possède donc un minimum local en  $-1$ , de valeur  $\phi(-1) = -e^{-1/2}$ , et un maximum local en  $1$  de valeur  $\phi(1) = e^{-1/2}$ . Montrons que ces extrema sont globaux. Comme  $\lim_{u \rightarrow -\infty} \phi(u) = 0$ , il existe  $a \in \mathbb{R}$  tel que pour tout  $u \leq a$ ,  $|\phi(u)| < e^{-1/2}$ . De même, comme  $\lim_{u \rightarrow +\infty} \phi(u) = 0$ , il existe  $b \in \mathbb{R}$  tel que pour tout  $u \geq b$ ,  $|\phi(u)| < e^{-1/2}$ . On a nécessairement  $a < -1$  et  $b > 1$ . Comme  $\phi$  est continue, elle admet un minimum et un maximum global sur  $[a, b]$ , qui sont nécessairement atteints en des points critiques ou sur le bord. Mais  $\phi(a) > -e^{-1/2} = \phi(-1)$ ,  $\phi(b) > e^{-1/2} = \phi(1)$ , le minimum global n'est donc pas atteint sur le bord mais en  $u = -1$ . De même, le maximum global sur  $[a, b]$  est atteint en  $u = 1$ . Ainsi, pour tout  $u \in [a, b]$ , on a  $\phi(-1) \leq \phi(u) \leq \phi(1)$ . De plus, étant donné le choix de  $a$  et  $b$ , ces inégalités sont également vraies pour tout  $u \notin [a, b]$ . En conclusion, pour tout  $u \in \mathbb{R}$ , on a  $\phi(-1) \leq \phi(u) \leq \phi(1)$ , la fonction  $\phi$  possède donc un minimum global en  $-1$  et un maximum global en  $1$ .
- On a, pour tout  $u \in \mathbb{R}$ ,  $\phi''(u) = u(u - \sqrt{3})(u + \sqrt{3})e^{-\frac{u^2}{2}}$ . L'exponentielle étant toujours positive, un tableau de signes nous donne que  $\phi''(u) \geq 0$  pour  $u \in [-\sqrt{3}, 0]$  et  $u \in [\sqrt{3}, +\infty[$ . Ces deux intervalles sont donc les plus grands sur lesquels  $\phi$  est convexe.

3. On a, pour tout  $(x, y) \in \mathbb{R}^2$ ,  $f(x, y) = \phi(x)\phi(y)$ . On en déduit que, pour tout  $(x, y) \in \mathbb{R}^2$ ,

$$\frac{\partial f}{\partial x}(x, y) = \phi'(x)\phi(y) \quad \text{et} \quad \frac{\partial f}{\partial y}(x, y) = \phi(x)\phi'(y)$$

- 4. On résout le système  $\begin{cases} \phi'(x)\phi(y) = 0 \\ \phi(x)\phi'(y) = 0 \end{cases}$ . La première ligne donne  $\phi'(x) = 0$  ou  $\phi(y) = 0$ .
  - Si  $\phi'(x) = (1 - x^2)e^{-\frac{x^2}{2}} = 0$ , alors nécessairement  $x = -1$  ou  $x = 1$ . Comme  $\phi(1) \neq 0$ ,  $\phi(-1) \neq 0$ , la deuxième ligne impose donc  $\phi'(y) = 0$  soit, de la même manière,  $y = -1$  ou  $y = 1$ .
  - Si  $\phi'(x) \neq 0$ , alors  $\phi(y) = 0$  ce qui impose  $y = 0$ . Comme  $\phi'(0) \neq 0$ , la deuxième ligne impose alors  $\phi(x) = 0$  donc  $x = 0$ .

En conclusion,  $f$  possède 5 points critiques qui sont  $(-1, -1)$ ,  $(-1, 1)$ ,  $(1, -1)$ ,  $(1, 1)$  et  $(0, 0)$ .

5. On a, pour tout  $(x, y) \in \mathbb{R}^2$ ,

$$\frac{\partial^2 f}{\partial x^2}(x, y) = \phi''(x)\phi(y) \quad \frac{\partial^2 f}{\partial y^2}(x, y) = \phi(x)\phi''(y) \quad \frac{\partial^2 f}{\partial x \partial y}(x, y) = \phi'(x)\phi'(y)$$

D'où la matrice hessienne en  $(x, y)$  :

$$Hf(x, y) = \begin{pmatrix} \phi''(x)\phi(y) & \phi'(x)\phi'(y) \\ \phi'(x)\phi'(y) & \phi(x)\phi''(y) \end{pmatrix}$$

6. On calcule, en  $(x, y) \in \mathbb{R}^2$ ,

$$rt - s^2 = \phi(x)\phi(y)\phi''(x)\phi''(y) - \phi'(x)^2\phi'(y)^2 = \left(xy(x^3 - 3x)(y^3 - 3y) - (1 - x^2)^2(1 - y^2)^2\right)e^{-x^2 - y^2}$$

Ainsi :

- En  $(-1, -1)$ , on a  $rt - s^2 = 4e^{-2} > 0$  et  $r = -2e^{-1} < 0$ . La fonction  $f$  a donc un maximum local en  $(-1, -1)$ .
- En  $(-1, 1)$ , on a  $rt - s^2 = 4e^{-2} > 0$  et  $r = 2e^{-1} > 0$ . La fonction  $f$  a donc un minimum local en  $(-1, 1)$ .
- En  $(1, -1)$ , on a  $rt - s^2 = 4e^{-2} > 0$  et  $r = 2e^{-1} > 0$ . La fonction  $f$  a donc un minimum local en  $(1, -1)$ .
- En  $(1, 1)$ , on a  $rt - s^2 = 4e^{-2} > 0$  et  $r = -2e^{-1} < 0$ . La fonction  $f$  a donc un maximum local en  $(1, 1)$ .
- En  $(0, 0)$ , on a  $rt - s^2 = -1 < 0$ . La fonction  $f$  a donc un point-col en  $(0, 0)$ .

7. (a)  $\mathcal{D}$  est convexe car c'est l'intersection de deux demi-plans ouverts.

(b) La fonction  $f$  est strictement positive sur  $\mathcal{D}$ .

Ainsi  $h = \ln \circ f$  est bien définie sur  $\mathcal{D}$ , et pour tout  $(x, y) \in \mathcal{D}$ ,  $h(x, y) = \ln(f(x, y)) = \ln(x) + \ln(y) - \frac{x^2 + y^2}{2}$ .

Les fonctions  $\ln$  et  $u \mapsto -\frac{u^2}{2}$  sont concaves sur  $\mathbb{R}_+^*$ , donc par extension les fonctions  $(x, y) \mapsto \ln(x)$ ,  $(x, y) \mapsto \ln(y)$ ,  $(x, y) \mapsto -\frac{x^2}{2}$  et  $(x, y) \mapsto -\frac{y^2}{2}$  sont concaves sur  $\mathcal{D}$ . La fonction  $h$  est donc concave comme somme de fonctions concaves.

(c) La fonction  $\ln$  étant strictement croissante, les fonctions  $f$  et  $h$  ont les mêmes extrema locaux aux mêmes points. Or on sait déjà que le seul point critique de  $f$  sur  $\mathcal{D}$  est  $(1, 1)$  et que  $f$  a un maximum local en ce point. La fonction  $h$  a donc également un maximum local en  $(1, 1)$ . Mais comme  $h$  est concave, on peut donc affirmer que  $h$  a même un maximum global en  $(1, 1)$  sur  $\mathcal{D}$ . Comme  $f$  et  $h$  ont les mêmes extrema, la fonction  $f$  a donc aussi un maximum global en  $(1, 1)$  sur  $\mathcal{D}$ . Comme  $f$  n'a pas d'autres points critiques sur  $\mathcal{D}$  (qui est ouvert), elle n'a pas d'autres extrema locaux sur  $\mathcal{D}$ .

(d) On a, pour tout  $(x, y) \in \mathcal{D}$ ,  $f(x, y) \geq 0$ . De plus, comme  $f$  a un maximum global en  $(1, 1)$  sur  $\mathcal{D}$ , on a pour tout  $(x, y) \in \mathcal{D}$ ,  $f(x, y) \leq f(1, 1) = e^{-1}$ . En résumé, on a donc pour tout  $(x, y) \in \mathcal{D}$ ,  $0 \leq f(x, y) \leq e^{-1}$ . La fonction  $f$  est donc bornée sur  $\mathcal{D}$ .

### Exercice 14.8

Soient les fonctions  $f$  et  $g$  définies par

$$f(x, y) = xy \quad g(x, y) = \frac{1}{x} + \frac{1}{y}$$

1. Déterminer les extrema de  $f$  sur  $\mathbb{R}^2$  puis sous la contrainte  $g(x, y) = \frac{2}{3}$ .
2. Déterminer les extrema de  $g$  sur  $\mathcal{D}_g$  puis sous la contrainte  $f(x, y) = 9$ .

*Corrigé*

1. Optimisation de  $f$  sur  $\mathbb{R}^2$  (qui est ouvert).

Commençons par déterminer les points critiques. On résout le système :

$$\begin{cases} \frac{\partial f}{\partial x}(x, y) = 0 \\ \frac{\partial f}{\partial y}(x, y) = 0 \end{cases} \Leftrightarrow \begin{cases} y = 0 \\ x = 0 \end{cases}$$

$f$  possède donc un seul point critique qui est  $(0, 0)$ . Déterminons sa nature. Pour tout  $(x, y) \in \mathbb{R}^2$ ,

$$\frac{\partial^2 f}{\partial x^2}(x, y) = \frac{\partial^2 f}{\partial y^2}(x, y) = 0 \quad \text{et} \quad \frac{\partial^2 f}{\partial x \partial y}(x, y) = 1$$

D'où en  $(0, 0)$ , on a  $rt - s^2 = 0 \times 0 - 1^2 = -1 < 0$ . La fonction  $f$  a donc un point-col en  $(0, 0)$ , et  $f$  n'a pas d'extrema locaux sur  $\mathbb{R}^2$ .

Optimisation de  $f$  sous contrainte explicite.

La contrainte  $\frac{1}{x} + \frac{1}{y} = \frac{2}{3}$  impose  $x \neq 0, y \neq 0$  ainsi que  $x \neq \frac{3}{2}, y \neq \frac{3}{2}$  (car la contrainte ne peut pas être vérifiée si  $x$  ou  $y$  prend la valeur  $\frac{3}{2}$ ) et se réécrit  $\frac{1}{y} = \frac{2}{3} - \frac{1}{x}$ . Il s'ensuit  $y = \frac{1}{\frac{2}{3} - \frac{1}{x}} = \frac{3x}{2x-3}$ .

On pose donc  $F(x) = f\left(x, \frac{3x}{2x-3}\right) = \frac{3x^2}{2x-3}$ . Pour tout  $x \notin \left\{0, \frac{3}{2}\right\}$ , on a

$$F'(x) = \frac{6x(2x-3) - 2 \times 3x^2}{(2x-3)^2} = \frac{6x^2 - 18x}{(2x-3)^2} = \frac{6x(x-3)}{(2x-3)^2}$$

La fonction  $F'$  s'annule en  $x = 0$  ou  $x = 3$ , mais le cas  $x = 0$  est exclu ; la fonction  $F$  possède donc un seul point critique qui est  $x = 3$ . Déterminons sa nature. Pour tout  $x \notin \left\{0, \frac{3}{2}\right\}$ , on a

$$F''(x) = 6 \frac{(2x-3)(2x-3)^2 - (x^2-3x) \times 2 \times 2 \times (2x-3)}{(2x-3)^4} = \frac{54}{(2x-3)^3}$$

On a donc  $F''(3) = \frac{54}{3^3} = \frac{54}{27} > 0$ . La fonction  $F$  possède donc un minimum local en 3. La valeur correspondante de  $y$  est  $y = \frac{3 \times 3}{2 \times 3 - 3} = 3$ . La fonction  $f$  possède donc un minimum local sous la contrainte en  $(3, 3)$ , de valeur  $f(3, 3) = 9$ .

2. Optimisation de  $g$  sur  $\mathcal{D}_g$ .

On a  $\mathcal{D}_g = \{(x, y) \in \mathbb{R}^2, x \neq 0, y \neq 0\}$  et cet ensemble est ouvert. Cherchons les points critiques de  $g$ . Pour tout  $(x, y) \in \mathcal{D}_g$ ,

$$\begin{cases} \frac{\partial g}{\partial x}(x, y) = 0 \\ \frac{\partial g}{\partial y}(x, y) = 0 \end{cases} \Leftrightarrow \begin{cases} \frac{-1}{x^2} = 0 \\ \frac{-1}{y^2} = 0 \end{cases}$$

et ce système n'a pas de solutions. La fonction  $g$  n'a donc pas de points critiques, et pas d'extrema locaux sur  $\mathcal{D}_g$ .

Optimisation de  $g$  sous contrainte explicite.

Pour tout  $(x, y) \in \mathcal{D}_g$ , la contrainte  $xy = 9$  se réécrit  $y = \frac{9}{x}$  (car  $x \neq 0$ ). On pose, pour tout  $x \neq 0$ ,

$G(x) = g\left(x, \frac{9}{x}\right) = \frac{1}{x} + \frac{x}{9}$ . Cherchons ses points critiques. Pour tout  $x \neq 0, G'(x) = \frac{-1}{x^2} + \frac{1}{9}$  et cette fonction s'annule en  $x = -3$  et  $x = 3$ .

De plus, pour tout  $x \neq 0, G''(x) = \frac{2}{x^3}$ , d'où  $G''(-3) < 0, G''(3) > 0$ . La fonction  $G$  possède donc un maximum local en  $-3$  et un minimum local en  $3$ . Par conséquent, sous la contrainte, la fonction  $g$  admet un maximum local en  $(-3, -3)$ , de valeur  $-\frac{2}{3}$ , et un minimum local en  $(3, 3)$ , de valeur  $\frac{2}{3}$ .

**Exercice 14.9**

Soit la fonction  $h$  définie par  $h(x, y) = -x^2 - 4y^2$ .

Déterminer les extrema de  $h$  sur  $\mathbb{R}^2$  et sous la contrainte  $x + 2y^2 - 2 = 0$ .

*Corrigé*

- Optimisons  $h$  sur  $\mathbb{R}^2$ . On calcule, pour tout  $(x, y) \in \mathbb{R}^2, \frac{\partial h}{\partial x}(x, y) = -2x, \frac{\partial h}{\partial y}(x, y) = -8y$ . Le seul point critique de  $h$  est donc  $(0, 0)$ . On remarque que  $h(0, 0) = 0$ , et pour tout  $(x, y) \in \mathbb{R}^2, h(x, y) \leq 0$ . La fonction  $h$  possède donc un maximum global en  $(0, 0)$ , de valeur 0.

- La contrainte se réécrit  $x = 2 - 2y^2$ . On pose alors

$$\tilde{h}(y) = h(2 - 2y^2, y) = -(2 - 2y^2)^2 - 4y^2 = -4 + 8y^2 - y^4 - 4y^2 = -4 + 4y^2 - y^4 = -(y^2 - 2)^2$$

Pour tout  $y \in \mathbb{R}$ , on a  $\tilde{h}'(y) = -2(y^2 - 2) \times 2y$ . Ainsi  $\tilde{h}'(y) = 0 \Leftrightarrow y \in \{-\sqrt{2}, 0, \sqrt{2}\}$ . On remarque déjà que  $\tilde{h}(-\sqrt{2}) = \tilde{h}(\sqrt{2}) = 0$  et que pour tout  $y \in \mathbb{R}$ ,  $\tilde{h}(y) \leq 0$  : la fonction  $\tilde{h}$  admet donc un maximum global en  $-\sqrt{2}$  et  $\sqrt{2}$ , de valeur 0. Reste à étudier la nature du point critique 0. On a  $\tilde{h}''(y) = -12y^2 + 4$  donc  $\tilde{h}''(0) = 4 > 0$ . La fonction  $\tilde{h}$  possède donc un minimum global en 0, de valeur  $\tilde{h}(0) = -4$ . Comme  $\lim_{y \rightarrow +\infty} \tilde{h}(y) = -\infty$ , ce minimum n'est pas global.

En conclusion, sous la contrainte,  $h$  possède un maximum global en  $(-2, -\sqrt{2})$  et  $(-2, \sqrt{2})$ , de valeur 0, et un minimum local en  $(2, 0)$ , de valeur  $-4$ .

### Exercice 14.10

Déterminer les extrema (locaux ou globaux) de la fonction suivante sous la contrainte indiquée.

$$f(x, y) = x^2 + y^2 \quad \text{sous} \quad \frac{x^2}{4} - \frac{y^2}{16} - 1 = 0$$

*Corrigé*

La contrainte se réécrit  $y^2 = 4x^2 - 16$ . Celle-ci n'est pas entièrement explicite, mais comme la définition de  $f$  ne fait intervenir que  $y^2$  (et pas  $y$ ), cette reformulation suffit. Elle impose en particulier  $4x^2 - 16 \geq 0$ , donc  $x \geq 2$  ou  $x \leq -2$ . On pose, pour tout  $x \in ]-\infty, -2] \cup [2, +\infty[$ ,  $F(x) = x^2 + (4x^2 - 16) = 5x^2 - 16$ . On calcule alors, pour tout  $x \in ]-\infty, -2[ \cup ]2, +\infty[$ ,  $F'(x) = 10x$  qui ne s'annule pas sur  $] -\infty, -2[ \cup ]2, +\infty[$ . La fonction  $F$  ne possède donc pas de point critique sur l'intérieur de son domaine de définition, et les seuls candidats pour donner des extrema locaux sont par conséquent les bords, donc  $x = -2$  et  $x = 2$ . De plus, on a  $F(-2) = F(2) = 4$ , et  $F$  est décroissante sur  $] -\infty, -2]$  et croissante sur  $[2, +\infty[$  (cette information étant donné par le signe de  $F'$ ). La fonction  $F$  possède par conséquent un minimum global en  $-2$  et en  $2$ . En conclusion, sous la contrainte, la fonction  $f$  possède un minimum global en  $(-2, 0)$  et  $(2, 0)$ , de valeur 4.

## Exercices d'annales

### Exercice 1

Soient les fonctions  $f, g, h$  définies de la manière suivante :

$$f(x) = \sqrt{\frac{2-3x}{5-2x}}, \quad g(x) = \sqrt{2x-5} \quad \text{et} \quad h(x) = \ln(4x-3)^2$$

1. Déterminer leur domaine de définition.
2. Déterminer le domaine de définition des fonctions marginales de  $f, g, h$  et les calculer.
3. Donner un point  $x_0$  appartenant aux trois domaines de définition des fonctions marginales de  $f, g$  et  $h$ .
4. Calculer l'élasticité des fonctions  $f, g, h$  et  $fg/h$  en  $x_0$ .
5. On considère que la fonction  $h$  représente le chiffre d'affaires d'une entreprise en fonction du temps de travail  $x \geq 1$ .
  - (a) Montrer que le chiffre d'affaires est strictement croissant par rapport au temps de travail.
  - (b) Donner un développement limité à l'ordre 2 de  $h$  au point 1.
  - (c) En déduire la position de la tangente au point d'abscisse  $x = 1$ .

*Corrigé*

1. La fonction  $\sqrt{\cdot}$  étant définie sur  $\mathbb{R}_+$ , dressons un tableau de signe pour déterminer le domaine de définition de  $f$ .

$x$	$] -\infty, 2/3[$	$[2/3, 5/2[$	$]5/2, +\infty[$
$2 - 3x$	+	-	-
$5 - 2x$	+	+	-
$\frac{2-3x}{5-2x}$	+	-	+

$f$  est donc définie sur  $] -\infty, 2/3[ \cup ]5/2, +\infty[$ .  $g$  est définie sur  $]5/2, +\infty[$ .  $\ln$  étant définie sur  $\mathbb{R}_+^*$ , la fonction  $h$  est définie sur  $]3/4, +\infty[$ .

2. La fonction  $\sqrt{\cdot}$  étant dérivable sur tout son domaine de définition sauf en 0,  $f$  est dérivable sur  $] -\infty, 2/3[ \cup ]5/2, +\infty[$ ,

et alors  $f_m(x) = f'(x) = \frac{1}{2} \sqrt{\frac{5-2x}{2-3x}} \times \frac{-3(5-2x) + 2(2-3x)}{(5-2x)^2} = -\frac{11}{2(2-3x)^{1/2}(5-2x)^{3/2}}$ .

De même,  $g$  est dérivable sur  $]5/2, +\infty[$  et alors  $g_m(x) = g'(x) = \frac{2}{2\sqrt{2x-5}} = \frac{1}{\sqrt{2x-5}}$ .

Enfin,  $\ln$  et  $y \mapsto y^2$  étant dérivables sur tout leur domaine de définition,  $h$  est dérivable sur  $]3/4, +\infty[$  et

$$h_m(x) = h'(x) = 2 \ln(4x-3) \times \frac{4}{4x-3} = \frac{8 \ln(4x-3)}{4x-3}$$

3. L'intersection des trois domaines de définition des fonctions marginales est  $]5/2, +\infty[$ . Ainsi,  $x_0 = 3$  appartient aux trois domaines de définition.

4. On a, pour tout  $x \in ] -\infty, 2/3[ \cup ]5/2, +\infty[$ ,

$$e_f(x) = x \frac{f'(x)}{f(x)} = -\frac{11x}{2(2-3x)^{1/2}(5-2x)^{3/2}} \sqrt{\frac{5-2x}{2-3x}} = -\frac{11x}{2(2-3x)(5-2x)}$$

Pour tout  $x \in ]5/2, +\infty[$ ,  $e_g(x) = x \frac{g'(x)}{g(x)} = \frac{x}{2x-5}$ . Pour tout  $x \in ]3/4, +\infty[$ ,  $e_h(x) = x \frac{h'(x)}{h(x)} = \frac{8x}{(4x-3) \ln(4x-3)}$ .

Enfin, pour tout  $x \in ]5/2, +\infty[$ ,  $e_{fg/h}(x) = e_f(x) + e_g(x) - e_h(x) = -\frac{11x}{2(2-3x)(5-2x)} + \frac{x}{2x-5} - \frac{8x}{(4x-3) \ln(4x-3)}$ .

5. (a) Étudions le signe de  $h_m$ . Pour  $x > 1$ ,  $4x - 3 > 1$  donc  $\ln(4x - 3) > 0$ , et  $4x - 3 > 0$ , donc  $h_m(x) > 0$  pour  $x > 1$ , ce qui prouve que  $h$  est strictement croissante sur  $[1, +\infty[$ .

(b) Pour tout  $x \in ]3/4, +\infty[$ ,  $h''(x) = \frac{8 \times \frac{4}{4x-3}(4x-3) - 8 \ln(4x-3) \times 4}{(4x-3)^2} = \frac{32(1 - \ln(4x-3))}{(4x-3)^2}$ . D'où le développement

limité à l'ordre 2 en 1 :  $h(x) = h(1) + h'(1)(x-1) + \frac{h''(1)}{2}(x-1)^2 + (x-1)^2 \varepsilon(x-1) = 16(x-1)^2 + (x-1)^2 \varepsilon(x-1)$ , avec  $\varepsilon(x-1) \xrightarrow{x \rightarrow 1} 0$ .

(c) On calcule, au voisinage de 1,  $h(x) - h(1) - h'(1)(x-1) = (x-1)^2(16 + \varepsilon(x-1))$ . Or  $(x-1)^2 \geq 0$  et  $16 + \varepsilon(x-1) \geq 0$  au voisinage de 1 puisque  $\lim_{x \rightarrow 1} \varepsilon(x-1) = 0$ . Donc au voisinage de 1, la courbe représentative de  $h$  est au-dessus de la tangente en 1.

**Exercice 2**

Soit  $f : x \mapsto xe^{x^2+1/x}$ .

1. Donner le domaine de définition de  $f$ .
2. Donner le développement limité de  $f$  au point  $x = 1$  à l'ordre 2.
3. En déduire la position de la tangente de  $f$  au voisinage du point  $x = 1$ .
4. Montrer que  $f$  est convexe sur  $[1, +\infty[$ .

*Corrigé*

1. L'exponentielle étant définie sur  $\mathbb{R}$ , la fonction  $f$  est définie en tout point  $x$  tel que  $x^2 + 1/x$  soit défini, c'est-à-dire que  $\mathcal{D}_f = \mathbb{R}^*$ .



2. On calcule, pour tout  $x \in \mathbb{R}^*$ ,  $f'(x) = e^{x^2+1/x} + x \left(2x - \frac{1}{x^2}\right) e^{x^2+1/x} = \left(2x^2 + 1 - \frac{1}{x}\right) e^{x^2+1/x}$ , puis
- $$f''(x) = \left(2x^2 + 1 - \frac{1}{x}\right) \left(2x - \frac{1}{x^2}\right) e^{x^2+1/x} + \left(4x + \frac{1}{x^2}\right) e^{x^2+1/x} = \left(4x^3 - 2 + 2x - \frac{1}{x^2} - 2 + \frac{1}{x^3} + 4x + \frac{1}{x^2}\right) e^{x^2+1/x}$$
- $$= \left(4x^3 + 6x - 4 + \frac{1}{x^3}\right) e^{x^2+1/x}.$$
- Il existe alors une fonction  $\varepsilon$  telle qu'au voisinage de 1,
- $$f(x) = f(1) + f'(1)(x-1) + \frac{f''(1)}{2}(x-1)^2 + (x-1)^2\varepsilon(x-1) = e^2 + e^2(x-1) + \frac{7}{2}e^2(x-1)^2 + (x-1)^2\varepsilon(x-1)$$
- avec  $\lim_{x \rightarrow 1} \varepsilon(x-1) = 0$ .
3. L'équation de la tangente à la courbe représentative de  $f$  en 1 est  $y = f(1) + f'(1)(x-1)$ . On calcule alors
- $$f(x) - f(1) - f'(1)(x-1) = (x-1)^2 \left(\frac{7}{2} + \varepsilon(x-1)\right).$$
- Or  $(x-1)^2 \geq 0$  et  $\frac{7}{2} + \varepsilon(x-1) \geq 0$  au voisinage de 1 puisque  $\lim_{x \rightarrow 1} \varepsilon(x-1) = 0$ . Ainsi, au voisinage de 1, on a  $f(x) \geq f(1) + f'(1)(x-1)$ , et donc la courbe représentative de  $f$  est au-dessus de la tangente en 1 au voisinage de 1.
4. On a, pour tout  $x \geq 1$ ,  $4x^3 - 4 \geq 0$ ,  $6x \geq 0$ ,  $\frac{1}{x^3} \geq 0$  et  $e^{x^2+1/x} \geq 0$ . Il s'ensuit que
- $$f''(x) = \left(4x^3 + 6x - 4 + \frac{1}{x^3}\right) e^{x^2+1/x} \geq 0$$
- pour tout  $x \in [1, +\infty[$ , et donc que  $f$  est convexe sur  $[1, +\infty[$ .

**Exercice 3**

Soit la fonction définie par  $f(x) = \frac{(x-1)\ln(x-1) - x}{2x-2}$

1. Donner le domaine de définition de  $f$ . On admet que  $f$  est de classe  $\mathcal{C}^2$  sur son domaine de définition.
2. Donner au point 2 un développement limité de  $f$  à l'ordre 2.
3. Préciser l'approximation affine de  $f$  au point 2 et donner la position relative de la tangente par rapport à la courbe représentative de  $f$  au voisinage de ce point.
4. Calculer l'élasticité de  $f$  sur son domaine de définition.
5. Donner une valeur approchée de la variation relative de  $f$  lorsque  $x$  diminue de 3% à partir de 2.
6. A partir de 2, de combien doit varier  $x$  pour que la valeur de  $f(x)$  augmente de 5% ?

*Corrigé*

1. Le dénominateur s'annule en  $x = 1$ . De plus,  $\ln(x-1)$  est défini pour tout  $x \in ]1, +\infty[$ . Le domaine de définition de  $f$  est donc  $\mathcal{D}_f = ]1, +\infty[$ .
2. On a, pour tout  $x > 1$ ,  $f(x) = \frac{1}{2} \ln(x-1) - \frac{x}{2(x-1)}$ . Par suite, pour tout  $x > 1$ ,
$$f'(x) = \frac{1}{2(x-1)} - \frac{1}{2} \frac{(x-1) - x}{(x-1)^2} = \frac{1}{2(x-1)} + \frac{1}{2(x-1)^2}.$$

Il vient alors

$$f''(x) = -\frac{1}{2(x-1)^2} - \frac{1}{2} \frac{2(x-1)}{(x-1)^4} = -\frac{1}{(x-1)^3} - \frac{1}{2(x-1)^2}.$$

Il existe alors  $\varepsilon$  telle qu'au voisinage de 2,

$$f(x) = f(2) + f'(2)(x-2) + \frac{f''(2)}{2}(x-2)^2 + (x-2)^2\varepsilon(x-2) = -1 + (x-2) - \frac{3}{4}(x-2)^2 + (x-2)^2\varepsilon(x-2)$$

avec  $\lim_{x \rightarrow 2} \varepsilon(x-2) = 0$ .

- 3. L'approximation affine de  $f$  au point 2 est donnée par  $\widehat{f}_2(x) = f(2) + f'(2)(x-2) = -1 + (x-2)$ . Au voisinage de 2,  $f(x) - \widehat{f}_2(x) = (x-2)^2 \left(-\frac{3}{4} + \varepsilon(x-1)\right)$ . Or  $(x-1)^2 \geq 0$  et  $\left(-\frac{3}{4} + \varepsilon(x-1)\right) \leq 0$  au voisinage de 2 puisque  $\lim_{x \rightarrow 2} \varepsilon(x-2) = 0$ . Donc  $f(x) - \widehat{f}_2(x) \leq 0$  au voisinage de 2, et la courbe représentative de  $f$  est en-dessous de la tangente en 2 au voisinage de 2.

4. Pour tout  $x > 1$ ,  $e_f(x) = x \frac{f'(x)}{f(x)} = \frac{\frac{1}{2(x-1)} + \frac{1}{2(x-1)^2}}{\frac{(x-1)\ln(x-1)-x}{2x-2}} = x \frac{1 + \frac{1}{(x-1)}}{(x-1)\ln(x-1) - x} = \frac{x^2}{(x-1)^2 \ln(x-1) - x(x-1)}$ .

En particulier,  $e_f(2) = -2$ .

5. On rappelle que  $\frac{\Delta f}{f} \simeq e_f(2) \frac{\Delta x}{x}$ .

Ainsi, si  $x$  diminue de 3%, la variation relative de  $f$  est d'environ  $-2 \times (-0.03) = 0.06$ , soit une augmentation de 6%.

6. Inversement,  $\frac{\Delta x}{x} \simeq \frac{1}{e_f(2)} \frac{\Delta f}{f} = -\frac{1}{2} \times 0.05 = -0.025$ . Pour que  $f$  augmente de 5%, il faut que  $x$  diminue de 2.5%.

**Exercice 4**

Soit la fonction  $f$  définie par  $f(x, y) = xe^y + ye^x$ .

1. Donner le domaine de définition  $\mathcal{D}_f$  de  $f$ . On admet que  $f$  est de classe  $\mathcal{C}^1$  sur  $\mathcal{D}_f$ .
2. Calculer les dérivées partielles premières de  $f$  en tout point de  $\mathcal{D}_f$ .
3. Déterminer l'équation du plan tangent à la surface représentative de  $f$  au point  $(0, 0)$ .
4. Déterminer la position relative du plan tangent et de la surface représentative de  $f$  au voisinage du point  $(0, 0)$ .
5. Étudier la convexité de  $f$  sur son ensemble de définition.
6. Donner une valeur approchée de  $f(0.1, -0.2)$ .
7. Soit  $a > 0$ . On se place au voisinage du point  $A = (a, a)$ . On suppose que les variables  $x$  et  $y$  augmentent toutes les deux de 5%, et que la variation correspondante de  $f$  est une augmentation de 10%. En utilisant un calcul approché, déterminer alors la valeur de  $a$ .

*Corrigé*

1.  $f$  est définie sur  $\mathbb{R}^2$ .
2. Pour tout  $(x, y) \in \mathbb{R}^2$ , on a  $\frac{\partial f}{\partial x}(x, y) = e^y + ye^x$  et  $\frac{\partial f}{\partial y}(x, y) = xe^y + e^x$ .
3. L'équation du plan tangent est donnée par  $z = f(0, 0) + \frac{\partial f}{\partial x}(0, 0)(x - 0) + \frac{\partial f}{\partial y}(0, 0)(y - 0) = x + y$ .
4. On calcule les dérivées partielles secondes :  $\forall (x, y) \in \mathbb{R}^2, \frac{\partial^2 f}{\partial x^2}(x, y) = ye^x, \frac{\partial^2 f}{\partial y^2}(x, y) = xe^y,$   
 $\frac{\partial^2 f}{\partial x \partial y}(x, y) = e^x + e^y$ . D'où en  $(0, 0), r = \frac{\partial^2 f}{\partial x^2}(0, 0) = 0, s = \frac{\partial^2 f}{\partial x \partial y}(0, 0) = 2, \frac{\partial^2 f}{\partial y^2}(0, 0) = 0$ .  
 Ainsi en  $(0, 0), rt - s^2 = -4 < 0$ . La surface représentative de  $f$  traverse le plan tangent en  $(0, 0)$ .
5. D'après ce qui précède, la fonction  $f$  n'est ni convexe ni concave sur  $\mathbb{R}^2$ .
6. L'approximation affine au voisinage de  $O = (0, 0)$  est donnée par  $\hat{f}_O(x, y) = x + y$  d'après la question 3 (le plan tangent étant la surface représentative de l'approximation affine). Ainsi  $f(0.1, -0.2) \simeq \hat{f}_O(0.1, -0.2) = 0.1 - 0.2 = -0.1$ .
7. En  $A = (a, a)$ , on a  $e_{f/x}(a, a) = \frac{a}{f(a, a)} \frac{\partial f}{\partial x}(a, a) = \frac{a}{2ae^a} (1 + a)e^a = \frac{1 + a}{2}$ . De même,  
 $e_{f/y}(a, a) = \frac{a}{f(a, a)} \frac{\partial f}{\partial y}(a, a) = \frac{1 + a}{2}$ . Or on a  $\frac{\Delta f}{f} \simeq e_{f/x}(a, a) \frac{\Delta x}{x} + e_{f/y}(a, a) \frac{\Delta y}{y}$  soit  
 $0.1 = \frac{1 + a}{2} \times 0.05 + \frac{1 + a}{2} \times 0.05 = \frac{1 + a}{2} \times 0.1$ . Il s'ensuit que  $\frac{1 + a}{2} = 1$ , donc  $1 + a = 2$  et  $a = 1$ .

**Exercice 5**

Soit  $g$  la fonction à deux variables définie par  $g(x, y) = \frac{\exp(x+y)}{\sqrt{x+y}}$ .

1. Déterminer son domaine de définition  $\mathcal{D}_g$ . On admet qu'il est ouvert et que  $g$  est de classe  $\mathcal{C}^1$  sur  $\mathcal{D}_g$ .
2.  $\mathcal{D}_g$  est-il convexe ?
3. Étudier la convexité de  $g$  sur son domaine de définition.
4. Calculer les dérivées partielles d'ordre 1 de  $g$  sur  $\mathcal{D}_g$ .
5. Donner l'équation du plan tangent à la surface représentative de  $g$  en  $(1, 0)$  et sa position relative par rapport à la surface représentative de  $g$  au voisinage de  $(1, 0)$ .

*Corrigé*

1. Le dénominateur n'est défini que si  $x+y \geq 0$ , et il ne doit pas s'annuler ce qui interdit  $x+y=0$ . On a donc  $\mathcal{D}_g = \{(x, y) \in \mathbb{R}^2, x+y > 0\}$ .
2.  $\mathcal{D}_g$  est convexe car c'est un demi-plan.
3. Pour tout  $(x, y) \in \mathcal{D}_g$ ,  $g(x, y) > 0$  et  $\ln(g(x, y)) = x+y - \ln(\sqrt{x+y}) = x+y - \frac{1}{2} \ln(x+y)$ .  
Or  $(x, y) \mapsto x+y$  est convexe car c'est une fonction affine.  $(x, y) \mapsto -\frac{1}{2} \ln(x+y)$  est convexe car c'est la composée d'une fonction affine par la fonction  $-\frac{1}{2} \ln(\cdot)$  qui est convexe. Par la propriété d'addition,  $\ln \circ g$  est convexe sur  $\mathcal{D}_g$ , et  $g$  est par conséquent aussi convexe sur  $\mathcal{D}_g$ .

4. On a, pour tout  $(x, y) \in \mathcal{D}_g$ ,  

$$\frac{\partial g}{\partial x}(x, y) = \frac{\exp(x+y)\sqrt{x+y} - \exp(x+y)\frac{1}{2\sqrt{x+y}}}{(\sqrt{x+y})^2} = \frac{(2x+2y-1)\exp(x+y)}{2(x+y)^{3/2}}$$
 et de même,  

$$\frac{\partial g}{\partial y}(x, y) = \frac{\exp(x+y)\sqrt{x+y} - \exp(x+y)\frac{1}{2\sqrt{x+y}}}{(\sqrt{x+y})^2} = \frac{(2x+2y-1)\exp(x+y)}{2(x+y)^{3/2}}.$$

5. Le plan tangent en  $(1, 0)$  a pour équation

$$z = f(1, 0) + \frac{\partial g}{\partial x}(1, 0)(x-1) + \frac{\partial g}{\partial y}(1, 0)(y-0) = e + \frac{e}{2}(x-1) + \frac{e}{2}y.$$

La fonction  $g$  étant convexe, la surface représentative de  $g$  est au-dessus du plan tangent au voisinage de  $(1, 0)$ .

**Exercice 6**

On considère la fonction de deux variables  $f$  définie par  $f(x, y) = \frac{y^2}{2y-x^2}$ .

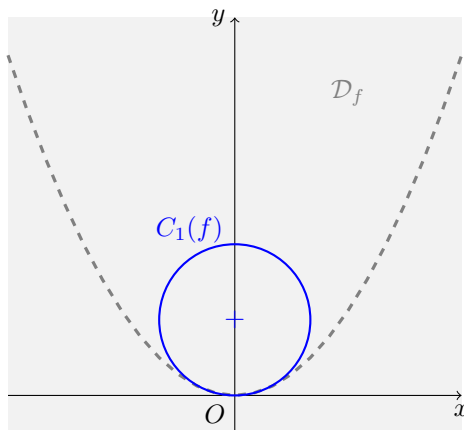
1. Déterminer et représenter son ensemble de définition  $\mathcal{D}_f$ . On admet qu'il est ouvert. Est-il convexe ?
2. Déterminer et représenter la courbe de niveau  $C_k(f)$  pour  $k=1$ .
3. Calculer les dérivées partielles du premier ordre de la fonction  $f$  sur  $\mathcal{D}_f$ .
4. Écrire le développement limité de  $f$  à l'ordre 1 au point  $(2, 3)$ . En déduire une valeur approchée de  $f$  au point  $(2.2, 2.9)$ .
5. Calculer les dérivées partielles du second ordre de la fonction  $f$  sur  $\mathcal{D}_f$ . Vérifier que

$$D^2 f(2, 3) = \begin{pmatrix} 81/2 & -12 \\ -12 & 4 \end{pmatrix}$$

6. Écrire le développement limité à l'ordre 2 de  $f$  au point  $(2, 3)$ . En déduire l'équation du plan tangent et la position de celui-ci par rapport à la surface représentative de  $f$  au point  $(2, 3)$ .

Corrigé

1. Le dénominateur ne doit pas s'annuler,  $f$  est donc définie sur  $\mathcal{D}_f = \{(x, y) \in \mathbb{R}^2, 2y - x^2 \neq 0\}$ . Il s'agit du plan  $\mathbb{R}^2$  privé du graphe de la fonction  $x \mapsto \frac{1}{2}x^2$ . Cet ensemble n'est pas convexe : il contient les points  $(-1, 0)$  et  $(1, 0)$  mais pas leur milieu  $(0, 0)$ .



2. Pour tout  $(x, y) \in \mathcal{D}_f$ , on a  $f(x, y) = 1 \Leftrightarrow y^2 = 2y - x^2 \Leftrightarrow x^2 + (y - 1)^2 = 1$ . On reconnaît l'équation du cercle de centre  $(0, 1)$  et de rayon 1. La courbe de niveau 1 de  $f$  est donc ce cercle privé du point  $(0, 0)$  qui n'est pas dans le domaine de définition.

3.  $\forall (x, y) \in \mathcal{D}_f$ , on a  $\frac{\partial f}{\partial x}(x, y) = \frac{2xy^2}{(2y - x^2)^2}$  et  $\frac{\partial f}{\partial y}(x, y) = \frac{2y(2y - x^2) - 2y^2}{(2y - x^2)^2} = \frac{2y^2 - 2yx^2}{(2y - x^2)^2}$ .

4. On a  $f(2, 3) = \frac{9}{2}$ ,  $\frac{\partial f}{\partial x}(2, 3) = 9$ ,  $\frac{\partial f}{\partial y}(2, 3) = -\frac{3}{2}$ . D'où le développement limité à l'ordre 1 au voisinage de  $(2, 3)$  :

$$f(x, y) = \frac{9}{2} + 9(x - 2) - \frac{3}{2}(y - 3) + \sqrt{(x - 2)^2 + (y - 3)^2} \varepsilon(x - 2, y - 3) \text{ avec } \lim_{\substack{x \rightarrow 2 \\ y \rightarrow 3}} \varepsilon(x - 2, y - 3) = 0.$$

En négligeant le terme d'erreur, on a alors  $f(2.2, 2.9) \simeq \frac{9}{2} + 9(2.2 - 2) - \frac{3}{2}(2.9 - 3) = 6.15$ .

5. On calcule, pour tout  $(x, y) \in \mathcal{D}_f$ ,

$$\frac{\partial^2 f}{\partial x^2}(x, y) = \frac{2y^2(2y - x^2)^2 - 2xy^2 \times (-4x)(2y - x^2)}{(2y - x^2)^4} = \frac{4y^3 + 6x^2y^2}{(2y - x^2)^3},$$

$$\frac{\partial^2 f}{\partial y \partial x}(x, y) = \frac{4xy(2y - x^2)^2 - 2xy^2 \times 4(2y - x^2)}{(2y - x^2)^4} = \frac{-4x^3y}{(2y - x^2)^3},$$

$$\frac{\partial^2 f}{\partial y^2}(x, y) = \frac{(4y - 2x^2)(2y - x^2)^2 - (2y^2 - 2yx^2) \times 4(2y - x^2)}{(2y - x^2)^4} = \frac{2x^4}{(2y - x^2)^3}.$$

On a bien  $r = \frac{\partial^2 f}{\partial x^2}(2, 3) = \frac{81}{2}$ ,  $s = \frac{\partial^2 f}{\partial y \partial x}(2, 3) = -12$ ,  $t = \frac{\partial^2 f}{\partial y^2}(2, 3) = 4$ .

6. Le développement limité à l'ordre 2 au voisinage de  $(2, 3)$  s'écrit alors  $f(x, y) = \frac{9}{2} + 9(x - 2) - \frac{3}{2}(y - 3) + \frac{81}{4}(x - 2)^2 - 12(x - 2)(y - 3) + 2(y - 3)^2 + ((x - 2)^2 + (y - 3)^2) \varepsilon(x - 2, y - 3)$

avec  $\lim_{\substack{x \rightarrow 2 \\ y \rightarrow 3}} \varepsilon(x - 2, y - 3) = 0$ . Le plan tangent en  $(2, 3)$  a pour équation  $z = \frac{9}{2} + 9(x - 2) - \frac{3}{2}(y - 3)$ . De plus, en

$(2, 3)$  on a  $rt - s^2 = \frac{81}{2} \times 4 - (-12)^2 = 162 - 144 = 18 > 0$ , et  $t = 4 > 0$ . La surface représentative de  $f$  est donc au-dessus du plan tangent au voisinage de  $(2, 3)$ .

**Exercice 7**

Soit la fonction  $f$  définie par  $f(x, y) = (x + y - 2)^2 + \exp(x^2 - 2y^2 - xy)$ .

1. Donner le domaine de définition de  $f$ . On admet que c'est un ouvert et que  $f$  est de classe  $\mathcal{C}^2$  sur son ensemble de définition.
2. En tout point du domaine de définition donner les dérivées partielles d'ordre 1 et 2 de  $f$ .
3. Donner le développement limité à l'ordre 2 de  $f$  au point  $(2, 1)$ .
4. Donner l'équation du plan tangent en  $(2, 1)$  et sa position relative par rapport à la surface représentative de  $f$  au voisinage du point  $(2, 1)$ .
5. Au point  $(2, 1)$ , on suppose que  $f$  et  $x$  augmentent relativement de 5%. Quelle est approximativement la variation relative de  $y$  correspondante ?
6. Donner une approximation de  $f(1.9, 1.2)$ .
7. Pour tout  $x \in \mathbb{R}$ , on pose  $g(x) = f(x, x) - 4(x - 1)^2$ . Donner les extrema locaux de  $g$  et préciser s'ils sont globaux.

Corrigé :

1. La fonction  $f$  est définie sur  $\mathbb{R}^2$ .
2. Pour tout  $(x, y) \in \mathbb{R}^2$ , on a  $\frac{\partial f}{\partial x}(x, y) = 2(x + y - 2) + (2x - y)\exp(x^2 - 2y^2 - xy)$  et  $\frac{\partial f}{\partial y}(x, y) = 2(x + y - 2) - (4y + x)\exp(x^2 - 2y^2 - xy)$ . Calculons les dérivées partielles secondes. Pour tout  $(x, y) \in \mathbb{R}^2$ ,  $\frac{\partial^2 f}{\partial x^2}(x, y) = 2 + [2 + (2x - y)^2]\exp(x^2 - 2y^2 - xy)$ ,  $\frac{\partial^2 f}{\partial y^2}(x, y) = 2 + [-4 + (4y + x)^2]\exp(x^2 - 2y^2 - xy)$ ,  $\frac{\partial^2 f}{\partial x \partial y}(x, y) = 2 - [1 + (2x - y)(4y + x)]\exp(x^2 - 2y^2 - xy)$ .
3. Au point  $(2, 1)$ , on a  $\exp(2^2 - 2 \times 1^2 - 2 \times 1) = \exp(0) = 1$ , d'où  $f(2, 1) = 2$ ,  $\frac{\partial f}{\partial x}(2, 1) = 5$ ,  $\frac{\partial f}{\partial y}(2, 1) = -4$ ,  $r = \frac{\partial^2 f}{\partial x^2}(2, 1) = 13$ ,  $s = \frac{\partial^2 f}{\partial x \partial y}(2, 1) = -14$ ,  $t = \frac{\partial^2 f}{\partial y^2}(2, 1) = 23$ .  
Le développement limité de  $f$  à l'ordre 2 au voisinage de  $(2, 1)$  s'écrit alors  $f(x, y) = 2 + 5(x - 2) - 4(y - 1) + \frac{13}{2}(x - 2)^2 - 14(x - 2)(y - 1) + \frac{23}{2}(y - 1)^2 + ((x - 2)^2 + (y - 1)^2)\varepsilon(x - 2, y - 1)$  avec  $\lim_{\substack{x \rightarrow 2 \\ y \rightarrow 1}} \varepsilon(x - 2, y - 1) = 0$ .
4. Le plan tangent en  $(2, 1)$  a alors pour équation  $z = 2 + 5(x - 2) - 4(y - 1)$ . De plus en  $(2, 1)$  on a  $rt - s^2 = 13 \times 23 - (-14)^2 = 103 > 0$ , et  $r = 13 > 0$ . La courbe représentative de  $f$  est donc au-dessus du plan tangent au voisinage de  $(2, 1)$ .
5. On a  $e_{f/x}(2, 1) = \frac{2}{f(2, 1)} \frac{\partial f}{\partial x}(2, 1) = 5$ ,  $e_{f/y}(2, 1) = \frac{1}{f(2, 1)} \frac{\partial f}{\partial y}(2, 1) = -2$ . Or on a  $\frac{\Delta f}{f} = e_{f/x}(2, 1) \frac{\Delta x}{x} + e_{f/y}(2, 1) \frac{\Delta y}{y}$  soit  $0.05 = 5 \times 0.05 - 2 \times \frac{\Delta y}{y}$ . Il s'ensuit  $\frac{\Delta y}{y} = \frac{1}{2}(5 \times 0.05 - 0.05) = 0.1$ ,  $y$  augmente donc de 10%.
6. L'approximation affine de  $f$  au voisinage de  $(2, 1)$  est donnée par  $\hat{f}_{(2,1)} = 2 + 5(x - 2) - 4(y - 1)$ . D'où  $f(1.9, 1.2) \simeq \hat{f}_{(2,1)}(1.9, 1.2) = 2 + 5 \times (-0.1) - 4 \times 0.2 = 0.7$ .
7. Pour tout  $x \in \mathbb{R}$ ,  $g(x) = (x + x - 2)^2 + \exp(x^2 - 2x^2 - x^2) - 4(x - 1)^2 = \exp(-2x^2)$ . On a alors  $g'(x) = -4x \exp(-2x^2)$  et celle-ci ne s'annule qu'en 0,  $g$  admet donc 0 pour seul point critique. De plus, pour tout  $x \in \mathbb{R}$ ,  $-2x^2 \leq 0$  donc comme la fonction exponentielle est croissante,  $g(x) = \exp(-2x^2) \leq \exp(0) = g(0)$ . Cela prouve que  $g$  a un maximum global en 0, de valeur  $g(0) = 1$ .

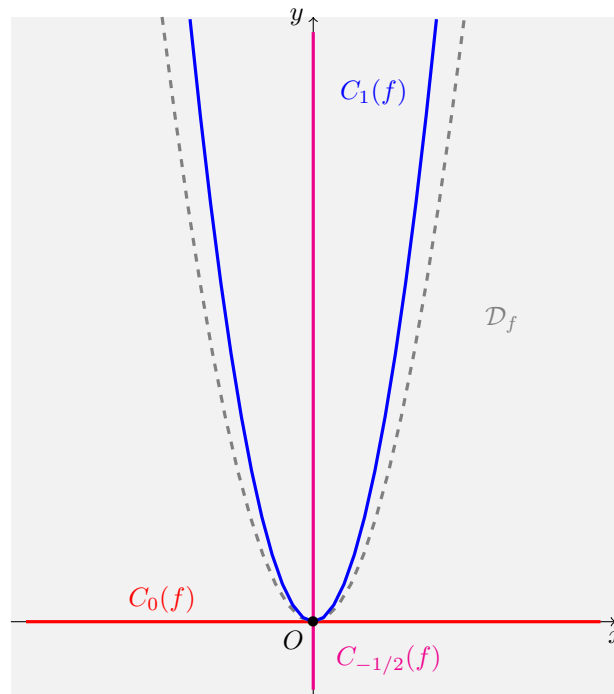
**Exercice 8**

On considère la fonction réelle de deux variables définie par  $f(x, y) = \frac{x^2}{y - 2x^2}$ .

- Déterminer et représenter son ensemble de définition  $\mathcal{D}_f$ . On admet que cet ensemble est ouvert. Est-il convexe ? On admet que  $f$  est de classe  $\mathcal{C}^2$  sur  $\mathcal{D}_f$ .
- Représenter sur le même dessin que la question 1 les courbes de niveau  $C_1(f)$ ,  $C_{-1/2}(f)$  et  $C_0(f)$ .
- En tout point de  $\mathcal{D}_f$ , calculer le gradient de  $f$ .
- Écrire le développement limité à l'ordre 1 de  $f$  au point  $(1, 1)$ . En déduire une valeur approchée de  $f$  au point  $(0.9, 1.1)$ .

*Corrigé*

- La fonction  $f$  est définie en tout point où son dénominateur ne s'annule pas, c'est à dire sur  $\{(x, y) \in \mathbb{R}^2, y \neq 2x^2\}$ . Il s'agit du plan  $\mathbb{R}^2$  privé du graphe de la fonction  $x \mapsto 2x^2$ .



- Pour tout  $(x, y) \in \mathcal{D}_f$ , on a  $f(x, y) = 1 \Leftrightarrow \frac{x^2}{y - 2x^2} = 1 \Leftrightarrow x^2 = y - 2x^2 \Leftrightarrow y = 3x^2$ . La courbe de niveau 1 de  $f$  est donc le graphe de la fonction  $x \mapsto 3x^2$ , privé du point  $(0, 0)$  qui n'est pas dans  $\mathcal{D}_f$ .
  - Pour tout  $(x, y) \in \mathcal{D}_f$ , on a  $f(x, y) = -\frac{1}{2} \Leftrightarrow x^2 = -\frac{1}{2}(y - 2x^2) \Leftrightarrow -2x^2 = y - 2x^2 \Leftrightarrow y = 0$ . La courbe de niveau  $-1/2$  de  $f$  est donc la droite d'équation  $y = 0$ , privée du point  $(0, 0)$  qui n'est pas dans  $\mathcal{D}_f$ .
  - Pour tout  $(x, y) \in \mathcal{D}_f$ , on a  $f(x, y) = 0 \Leftrightarrow x^2 = 0 \Leftrightarrow x = 0$ . La courbe de niveau 0 de  $f$  est donc la droite d'équation  $x = 0$ , privée du point  $(0, 0)$  qui n'est pas dans  $\mathcal{D}_f$ .

- Soit  $(x, y) \in \mathcal{D}_f$ . On calcule  $\frac{\partial f}{\partial x}(x, y) = \frac{2x(y - 2x^2) - x^2 \times (-4x)}{(y - 2x^2)^2} = \frac{2xy}{(y - 2x^2)^2}$  et  $\frac{\partial f}{\partial y}(x, y) = \frac{-x^2}{(y - 2x^2)^2}$ . D'où  $\nabla f(x, y) = \left( \frac{2xy}{(y - 2x^2)^2}, \frac{-x^2}{(y - 2x^2)^2} \right)$ .

4. On a alors  $f(1, 1) = 1$ ,  $\frac{\partial f}{\partial x}(1, 1) = 2$ ,  $\frac{\partial f}{\partial y}(1, 1) = -1$ .

Le développement limité à l'ordre 1 de  $f$  s'écrit alors, pour  $(x, y)$  proche de  $(1, 1)$ ,

$$f(x, y) = 1 + 2(x - 1) - (y - 1) + \sqrt{(x - 1)^2 + (y - 1)^2}\varepsilon(x - 1, y - 1)$$

avec  $\lim_{\substack{x \rightarrow 1 \\ y \rightarrow 1}} \varepsilon(x - 1, y - 1) = 0$ .

Si on néglige le terme d'erreur, on a alors  $f(0.9, 1.1) \simeq 1 + 2(0.9 - 1) - (1.1 - 1) = 0.7$ .

**Exercice 9**

On considère la fonction réelle de deux variables  $f$  définie par

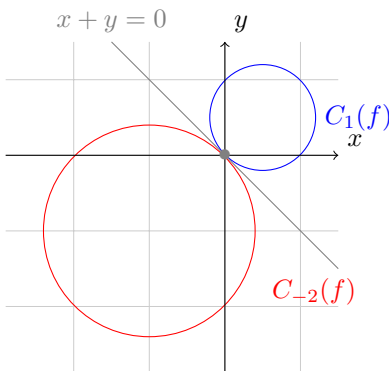
$$f : (x, y) \mapsto \frac{x^2 + y^2}{x + y}.$$

1. Déterminer et représenter son ensemble de définition  $\mathcal{D}_f$ . On admet qu'il est ouvert. Est-il convexe ? Justifier votre réponse.
2. Déterminer et représenter (sur le même graphique que pour la question précédente) la courbe de niveau  $C_k(f)$  pour  $k = -2$  et  $k = 1$ .
3. On admet que  $f$  est  $\mathcal{C}^2$  sur  $\mathcal{D}_f$ . Calculer ses dérivées partielles d'ordre 1 et 2.
4. En déduire une valeur approchée de  $f$  au point  $(0.9, 1.2)$  et déterminer l'équation de la tangente à la courbe de niveau  $C_1(f)$  au point  $(1, 1)$ .
5. Étudier la convexité ou la concavité de  $f$  sur les ensembles  $E_1$  et  $E_2$  définis par

$$E_1 = \{(x, y) \in \mathbb{R}^2, x + y > 0\} \quad \text{et} \quad E_2 = \{(x, y) \in \mathbb{R}^2, x + y < 0\}.$$

*Corrigé*

1. On a  $\mathcal{D}_f = \{(x, y) \in \mathbb{R}^2, x + y \neq 0\}$ . C'est le plan privé de la droite d'équation  $x + y = 0$ . Il n'est pas convexe : il contient les points  $(1, 0)$  et  $(-1, 0)$  mais pas leur milieu  $(0, 0)$ .
2. Soit  $(x, y) \in \mathcal{D}_f$ . On a  $(x, y) \in C_{-2}(f) \Leftrightarrow x^2 + y^2 + 2(x + y) = 0 \Leftrightarrow (x + 1)^2 + (y + 1)^2 = 2$ . La courbe de niveau  $-2$  est donc l'intersection du cercle de centre  $(-1, -1)$ , de rayon  $\sqrt{2}$ , avec  $\mathcal{D}_f$ .  
On a aussi  $(x, y) \in C_1(f) \Leftrightarrow x^2 + y^2 - x - y = 0 \Leftrightarrow (x - \frac{1}{2})^2 + (y - \frac{1}{2})^2 = \frac{1}{2}$ . La courbe de niveau 1 est donc l'intersection du cercle de centre  $(\frac{1}{2}, \frac{1}{2})$  et de rayon  $\frac{1}{\sqrt{2}}$  avec  $\mathcal{D}_f$ .



3. Soit  $(x, y) \in \mathcal{D}_f$ . On a  $\frac{\partial f}{\partial x}(x, y) = \frac{2x(x+y) - (x^2 + y^2)}{(x+y)^2} = \frac{x^2 + 2xy - y^2}{(x+y)^2}$  et par symétrie,  $\frac{\partial f}{\partial y}(x, y) = \frac{y^2 + 2xy - x^2}{(x+y)^2}$ .  
 Puis  $\frac{\partial^2 f}{\partial x^2}(x, y) = \frac{2(x+y)(x+y)^2 - 2(x+y)(x^2 + 2xy - y^2)}{(x+y)^4} = \frac{2((x+y)^2 - x^2 - 2xy + y^2)}{(x+y)^3} = \frac{4y^2}{(x+y)^3}$ . Par symétrie,  $\frac{\partial^2 f}{\partial y^2}(x, y) = \frac{4x^2}{(x+y)^3}$ . Enfin,  $\frac{\partial^2 f}{\partial x \partial y}(x, y) = \frac{2(x-y)(x+y)^2 - 2(x+y)(x^2 + 2xy - y^2)}{(x+y)^4} = \frac{4xy}{(x+y)^3}$ .

4. L'approximation affine de  $f$  au point  $M = (1, 1)$  est alors donnée par  $\widehat{f}_M(x, y) = f(1, 1) + \frac{\partial f}{\partial x}(M)(x-1) + \frac{\partial f}{\partial y}(M)(y-1) = 1 + \frac{1}{2}(x-1) + \frac{1}{2}(y-1)$ .

On en déduit  $f(0.9, 1.2) \simeq \widehat{f}_M(0.9, 1.2) = 1 + \frac{1}{2}(0.9-1) + \frac{1}{2}(1.2-1) = 1.05$ .

L'équation de la tangente à  $C_1$  en  $(1, 1)$  est donnée par

$$\frac{\partial f}{\partial x}(M)(x-1) + \frac{\partial f}{\partial y}(M)(y-1) = 0 \Leftrightarrow x + y - 2 = 0.$$

5. Calculons le déterminant de la matrice hessienne en un point  $(x, y)$  de  $\mathcal{D}_f$ . On a

$rt - s^2 = \frac{4y^2}{(x+y)^3} \times \frac{4x^2}{(x+y)^3} - \left(\frac{4xy}{(x+y)^3}\right)^2 = 0$ . On étudie alors le signe de  $r$ . Celui-ci est du signe de  $x+y$ , donc positif sur  $E_1$  et négatif sur  $E_2$ .  $f$  est donc convexe sur  $E_1$  et concave sur  $E_2$ .

**Exercice 10**

On considère la fonction  $f$  définie par  $f(x, y) = \frac{x^2 y^2}{x^2 + y^2}$ .

1. Déterminer l'ensemble de définition  $\mathcal{D}$  de  $f$ . Cet ensemble est-il convexe ? On admet que  $\mathcal{D}$  est un ensemble ouvert.
2. Calculer le gradient de  $f$  en chaque point de  $\mathcal{D}$ .
3. Déterminer l'approximation affine de  $f$  au voisinage du point  $(1, 2)$ .
4. Déterminer les extrema de  $f$  sur  $\mathcal{D}$ . On pourra étudier le signe de  $f$  sur  $\mathcal{D}$ .

*Corrigé*

1.  $f$  est définie sur  $\mathcal{D} = \{(x, y) \in \mathbb{R}^2, x^2 + y^2 \neq 0\} = \mathbb{R}^2 \setminus \{(0, 0)\}$ . Cet ensemble n'est pas convexe : il contient les points  $A = (-1, 0)$  et  $B = (1, 0)$  mais pas leur milieu  $\frac{1}{2}(A+B) = (0, 0)$ .
2. On a, en tout point  $(x, y) \in \mathcal{D}$ ,  $\nabla f(x, y) = \left(\frac{2xy^4}{(x^2 + y^2)^2}, \frac{2x^4 y}{(x^2 + y^2)^2}\right)$ .
3. On en déduit l'approximation affine au voisinage du point  $M = (1, 2)$  : pour tout  $(x, y) \in \mathcal{D}$ ,  $\widehat{f}_M(x, y) = f(1, 2) + \frac{\partial f}{\partial x}(1, 2)(x-1) + \frac{\partial f}{\partial y}(1, 2)(y-2) = \frac{4}{5} + \frac{32}{25}(x-1) + \frac{8}{25}(y-2)$ .
4. On a calculé le gradient de  $f$  à la question 2. Celui-ci s'annule en  $(x, y) \in \mathcal{D}$  si et seulement si  $x = 0$  ou  $y = 0$ , et alors  $f(x, y) = 0$ . Or on voit que  $f(x, y) \geq 0$  pour tout  $(x, y) \in \mathcal{D}$ .  $f$  admet donc un minimum global sur  $\mathcal{D}$ , de valeur 0, en tout point  $(x, y)$  de  $\mathcal{D}$  tel que  $x = 0$  ou  $y = 0$ .

**Exercice 11**

Soit  $f$  la fonction définie sur  $\mathbb{R}^2$  par  $f(x, y) = -x^2 y + \frac{1}{2} y^2 + y$ .

1. Calculer les points critiques de  $f$  et donner leur nature locale.
2. En étudiant  $f$ , préciser si les extrema locaux trouvés à la question précédente sont globaux ou non.



3. Rechercher et représenter sur un graphique la courbe de niveau 0 de  $f$ .

*Corrigé*

1. On calcule les dérivées partielles de  $f$ . Pour tout  $(x, y) \in \mathbb{R}^2$ ,

$$\frac{\partial f}{\partial x}(x, y) = -2xy, \quad \frac{\partial f}{\partial y}(x, y) = -x^2 + y + 1, \quad \frac{\partial^2 f}{\partial x^2}(x, y) = -2y, \quad \frac{\partial^2 f}{\partial x \partial y}(x, y) = -2x, \quad \frac{\partial^2 f}{\partial y^2}(x, y) = 1.$$

Cherchons les points critiques de  $f$  : résolvons  $\begin{cases} \frac{\partial f}{\partial x}(x, y) = 0 \\ \frac{\partial f}{\partial y}(x, y) = 0 \end{cases} \Leftrightarrow \begin{cases} -2xy = 0 \\ -x^2 + y + 1 = 0 \end{cases}$ . La première relation

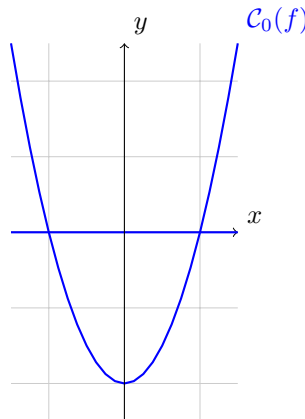
donne  $x = 0$  ou  $y = 0$ . Si  $x = 0$ , la deuxième relation donne alors  $y = -1$ . Si  $y = 0$ , la deuxième relation donne alors  $x^2 = 1$  donc  $x = 1$  ou  $x = -1$ . Les points critiques sont donc  $(0, -1)$ ,  $(-1, 0)$  et  $(1, 0)$ .

Déterminons leur nature à l'aide des conditions du second ordre.

- En  $(0, -1)$  on a  $r = 2, s = 0, t = 1$  et  $rt - s^2 = 2 > 0$ . De plus,  $r = 2 > 0$ .  $f$  a donc un minimum local en  $(0, -1)$  de valeur  $-1/2$ .
- En  $(-1, 0)$  on a  $r = 0, s = 2, t = 1$  et  $rt - s^2 = -4 < 0$ .  $f$  a donc un point-col en  $(-1, 0)$ .
- En  $(1, 0)$ , on a  $r = 0, s = -2, t = 1$  et  $rt - s^2 = -4$ .  $f$  a donc un point-col en  $(1, 0)$ .

2. On a  $f(2, 1) = -5/2 < -1/2$ . L'extremum local atteint en  $(0, -1)$  n'est donc pas global.

3. On a  $f(x, y) = 0 \Leftrightarrow y(-x^2 + \frac{1}{2}y + 1) = 0 \Leftrightarrow (y = 0 \text{ ou } y = 2x^2 - 2)$ . La courbe de niveau 0 de  $f$  est donc l'union de la droite d'équation  $y = 0$  et de la courbe d'équation  $y = 2x^2 - 2$ .



**Exercice 12**

Soit la fonction  $f$  définie sur  $\mathcal{D} = \mathbb{R}^2 \setminus \{(0, 0)\}$  par

$$f(x, y) = \ln(x^2 + y^2) - x^2 - x$$

1. Montrer que  $f$  n'admet aucun extremum global sur  $\mathcal{D}$ .
2. Déterminer les points critiques de  $f$ .
3. Donner la nature des points critiques de  $f$ .

*Corrigé*

1. On a, pour tout  $y > 0$ ,  $f(0, y) = \ln(y^2) = 2\ln(y)$ . Cette quantité tend vers  $-\infty$  (respectivement  $+\infty$ ) lorsque  $y$  tend vers 0 (respectivement  $+\infty$ ).  $f$  n'admet donc pas d'extremum global sur  $\mathcal{D}$ .

2. On calcule, pour tout  $(x, y) \in \mathcal{D}$ ,  $\frac{\partial f}{\partial x}(x, y) = \frac{2x}{x^2 + y^2} - 2x - 1$ ,  $\frac{\partial f}{\partial y}(x, y) = \frac{2y}{x^2 + y^2}$ .

Si ces deux quantités sont nulles en  $(x, y)$ , alors la deuxième relation impose  $y = 0$  et la première se réécrit  $\frac{2}{x} - 2x - 1 = 0$  soit  $-2x^2 - x + 2 = 0$ . Le discriminant de ce trinôme est  $\Delta = (-1)^2 - 4 \times (-2) \times 2 = 17$ .

Il y a donc deux racines  $x_1 = \frac{-1 - \sqrt{17}}{4}$  et  $x_2 = \frac{-1 + \sqrt{17}}{4}$ .

Les points critiques sont donc  $\left(\frac{-1 - \sqrt{17}}{4}, 0\right)$  et  $\left(\frac{-1 + \sqrt{17}}{4}, 0\right)$ .

3. On calcule, pour tout  $(x, y) \in \mathcal{D}$ ,  $\frac{\partial^2 f}{\partial x^2}(x, y) = \frac{2y^2 - 2x^2}{(x^2 + y^2)^2} - 2$ ,  $\frac{\partial^2 f}{\partial x \partial y}(x, y) = \frac{-4xy}{(x^2 + y^2)^2}$ ,  $\frac{\partial^2 f}{\partial y^2}(x, y) = \frac{2x^2 - 2y^2}{(x^2 + y^2)^2}$ .

En particulier, en tout point  $(x, y)$  de  $\mathcal{D}$  où  $x \neq 0, y = 0$  (ce qui est le cas des points critiques), on a

$r = -\frac{2}{x^2} - 2 < 0, s = 0, t = \frac{2}{x^2} > 0$  d'où  $rt - s^2 < 0$ . Les deux points critiques sont donc des points-col pour  $f$ .