

Leçon n°2 Droites et segments

...

Tracés

> BD

> au tableau

> carreaux

> sur la feuille

exo type : tracer la perpendiculaire à la droite (d) passant par A

Vocabulaire

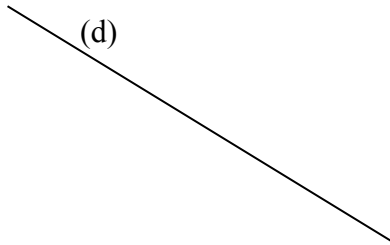
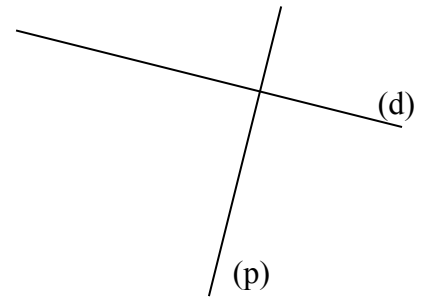
> texte à trous

> lecture des symboles

> « dictée » d'une figure

exo type : tracer une figure décrite

1) Trace une droite perpendiculaire à (p).
 Appelle la (d').
 Que peux-tu dire à propos de (d) et (d') ?
 Quelle est la propriété du cours qui te permet
 d'affirmer ça ?

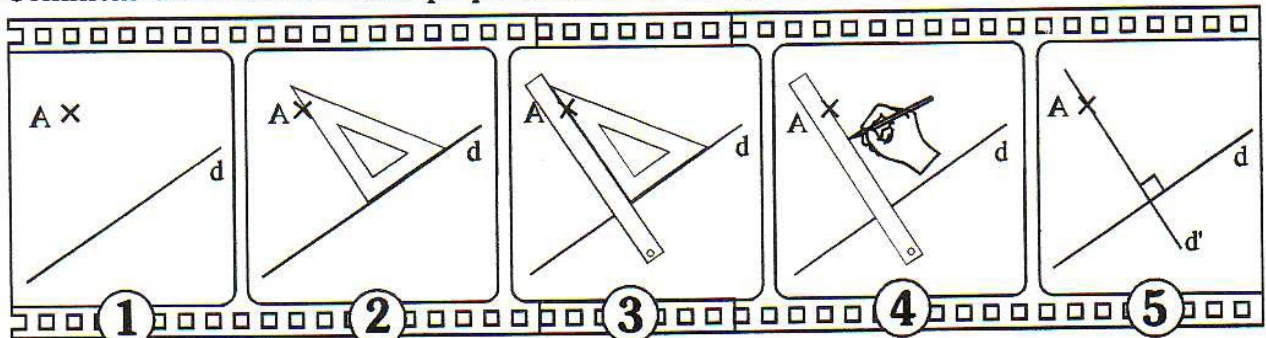


2) Trace une parallèle à la droite (d).

3) Trace la parallèle à la droite (d) passant par A.



Comment construire la droite perpendiculaire à une droite d et passant par un point A ?



Comment construire la droite parallèle à une droite d et passant par un point A ?

